



PREFEITURA MUNICIPAL DE RIBEIRÃO CORRENTE
DEPARTAMENTO DE EDUCAÇÃO
E.M.E.B. "JORNALISTA GRANDUQUE JOSÉ"

Rua Marechal Deodoro, 815 – Bairro Centro – Ribeirão Corrente - SP. CEP: 14445-000 - Fone: (16) 3749.1017
Ato de Criação: Lei Municipal Nº 986, de 20 de março de 2008
Email - granduquejose@educacao.sp.gov.br

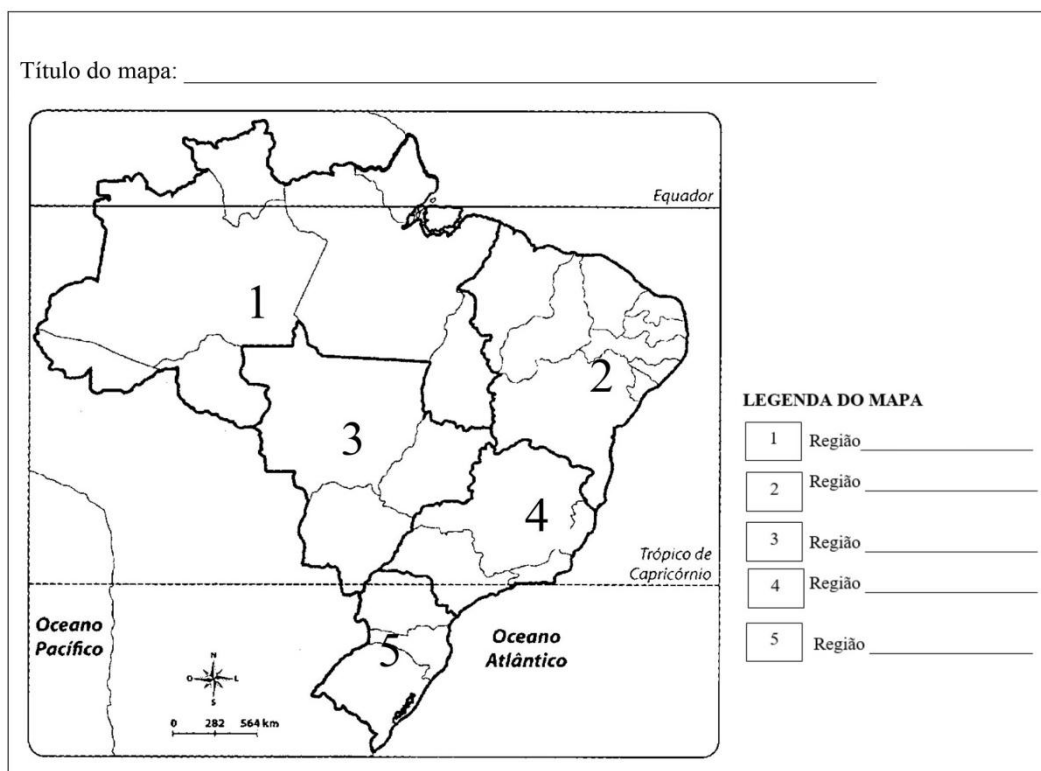
TRABALHO DE GEOGRAFIA – 2º BIMESTRE

NOME _____

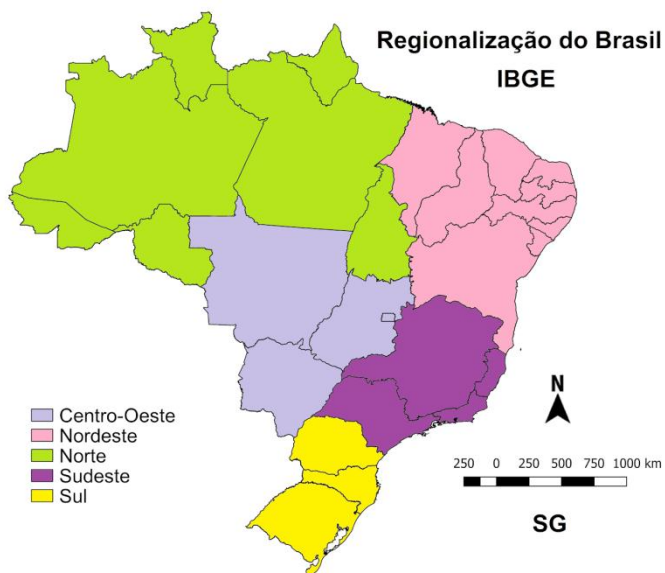
Nº _____ 7º ANO _____

1-

Observe o mapa das regiões brasileiras. Pinte cada região de uma cor diferente. Depois identifique cada região na legenda e crie um título para o mapa.



2- Observe o mapa e responda a questão abaixo.



a) Que divisão regional é esta?



PREFEITURA MUNICIPAL DE RIBEIRÃO CORRENTE

DEPARTAMENTO DE EDUCAÇÃO

E.M.E.B. "JORNALISTA GRANDUQUE JOSÉ"

Rua Marechal Deodoro, 815 – Bairro Centro – Ribeirão Corrente - SP. CEP: 14445-000 - Fone: (16) 3749.1017

Ato de Criação: Lei Municipal Nº 986, de 20 de março de 2008

Email - granduquejose@educacao.sp.gov.br

b) Enumere e identifique cada uma das regiões:

c) A maior das regiões em tamanho de território é o _____. A menor das regiões em tamanho de território é o _____.

d) Em qual das regiões fica a nossa capital – Brasília – DF?

3- Qual é a divisão regional oficial do Brasil? Por quantas regiões ela é formada? Por que é utilizada?

4- O IBGE divide o Brasil em cinco regiões administrativas

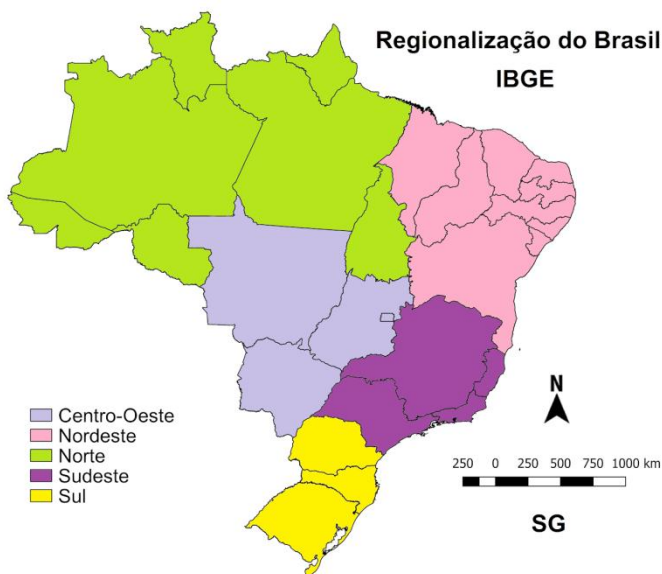
a) Norte, Sul, Centro Norte, Sudoeste e Nordeste.

b) Norte, Sudeste, Centro Sul, Noroeste e Oeste.

c) Norte, Nordeste, Sudeste, Centro Oeste e Sul.

d) Norte, Centro Leste, Sul, Nordeste e Leste.

5- Observe os mapas e responda as questões abaixo.



6- Com base nos mapas e em seus conhecimentos sobre o assunto, marque V para as afirmativas verdadeiras e F para as falsas.



PREFEITURA MUNICIPAL DE RIBEIRÃO CORRENTE
DEPARTAMENTO DE EDUCAÇÃO
E.M.E.B. "JORNALISTA GRANDUQUE JOSÉ"

Rua Marechal Deodoro, 815 – Bairro Centro – Ribeirão Corrente - SP. CEP: 14445-000 - Fone: (16) 3749.1017
Ato de Criação: Lei Municipal Nº 986, de 20 de março de 2008
Email - granduquejose@educacao.sp.gov.br

- a) () De acordo com a Divisão Regional do IBGE, o país foi dividido em cinco regiões: Norte, Nordeste, Sul, Sudeste e Centro-Oeste, definidas pela combinação de aspectos naturais e socioeconômicos semelhantes.
- b) () A regionalização conhecida como Regiões Geoeconômicas teve como um dos seus principais critérios, o desenvolvimento socioeconômico semelhante, e também a obediência aos limites territoriais dos estados.
- c) () Apesar de não ser reconhecida como a divisão oficial do Brasil, as Regiões Geoeconômicas possibilitam a verificação de desigualdades sociais e os diferentes graus de desenvolvimento econômico existentes no país.

BOM TRABALHO!